

Noms : _____

Groupe : _____

Toujours obligatoire, sinon on peut vous enlever des points!

DIODE ET CIRCUIT REDRESSEUR
Prélaboratoire (feuille réponse)

Donnez des réponses complètes aux questions posées.

Question 1.

(a)

(b)

Question 2.

(a)

(b)

Question 3.

(a)

(b)


Question 4.

(a)

(b)

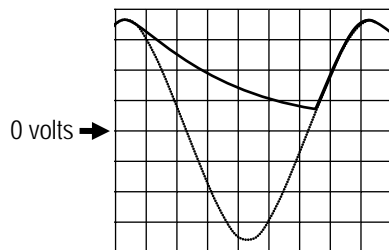
(c)

Question 5.

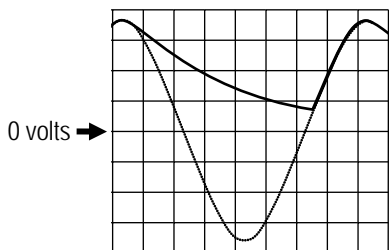


Question 6.

(a) la résistance R est infinie



(b) la résistance R est plus grande que 150Ω (mais pas infinie)



(a) la résistance R est plus petite que 150Ω

